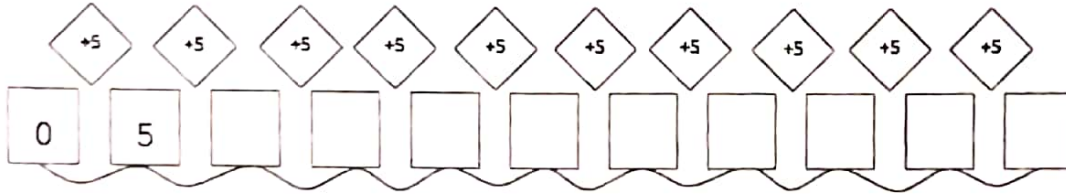


LA NUMERAZIONE E LA TABELLINA DEL 5

☺ Leggi e impara.

Numerare per cinque significa fare tante addizioni che hanno come secondo addendo il numero 5. $0+5=5+5=10+5=15...$
 Ogni volta si fa un salto di 5 cifre.

✍ 1. Aggiungi +5 per costruire la numerazione del 5.



↑ Questa è la numerazione del 5 da 0 a 50. Imparala a memoria.

✍ 2. Adesso costruisci la tabellina del 5.


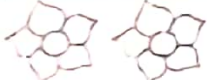



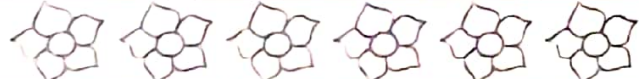


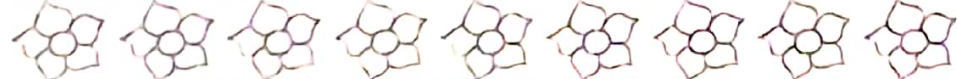
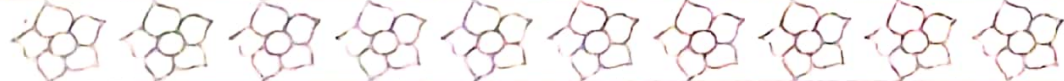

Colora le mani, conta le 5 dita ripetute in ogni riga, scrivi il risultato della corrispondente moltiplicazione.

	+	+	+	+	+	+	+	+	+	Quante dita in tutto?
										$5 \times 0 = 0$
										$5 \times 1 = 5$
										$5 \times 2 =$
										$5 \times 3 =$
										$5 \times 4 =$
										$5 \times 5 =$
										$5 \times 6 =$
										$5 \times 7 =$
										$5 \times 8 =$
										$5 \times 9 =$
										$5 \times 10 =$

➔ Studia a memoria la tabellina del 5.

LA TABELLINA DEL 5

→ 1 | Conta e scrivi il risultato.

	$5 \times 0 = \dots\dots$
	$5 \times 1 = \dots\dots$
	$5 \times 2 = \dots\dots$
	$5 \times 3 = \dots\dots$
	$5 \times 4 = \dots\dots$
	$5 \times 5 = \dots\dots$
	$5 \times 6 = \dots\dots$
	$5 \times 7 = \dots\dots$
	$5 \times 8 = \dots\dots$
	$5 \times 9 = \dots\dots$
	$5 \times 10 = \dots\dots$

→ 2 | Conta.

$5 \times 2 = \dots\dots$	$5 \times 0 = \dots\dots$	$5 \times 7 = \dots\dots$	$5 \times 10 = \dots\dots$
$5 \times 4 = \dots\dots$	$5 \times 9 = \dots\dots$	$5 \times 8 = \dots\dots$	$5 \times 5 = \dots\dots$

→ 3 | Completa la numerazione seguendo il comando della freccia.

	$+ 5$	$+ 5$	$+ 5$	$+ 5$	$+ 5$	$+ 5$	$+ 5$	$+ 5$	$+ 5$	$+ 5$
0	5

LA TABELLINA DEL 5

1 ▶ Completa: ogni salto vale 5.



2 ▶ Conta i petali dei fiori e completa la tabellina del 5.

0 fiori

___ petali

$$5 \times 0 = \underline{\quad}$$


1 fiore



___ petali

$$5 \times 1 = \underline{\quad}$$


4 fiori



___ petali

$$5 \times 4 = \underline{\quad}$$

5 fiori



___ petali

$$5 \times 5 = \underline{\quad}$$

6 fiori



___ petali

$$5 \times 6 = \underline{\quad}$$

___ fiori



10 petali

$$5 \times \underline{\quad} = 10$$


3 fiori



___ petali

$$5 \times 3 = \underline{\quad}$$


8 fiori



___ petali

$$5 \times 8 = \underline{\quad}$$


9 fiori



___ petali

$$5 \times 9 = \underline{\quad}$$

10 fiori

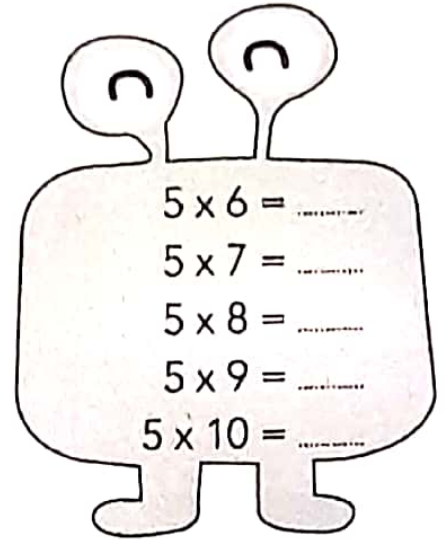



___ petali

$$5 \times 10 = \underline{\quad}$$

LA TABELLINA DEL 5

1 Completa la tabellina del 5 e scrivi sotto la numerazione.



5 • • • • • • • • • 50

2 Completa scrivendo la moltiplicazione giusta.



- Quante dita hanno 3 mani? $5 \times 3 = \dots\dots$
- Quante dita hanno 7 mani? $\dots\dots \times \dots\dots = \dots\dots$
- Quante dita hanno 4 mani? $\dots\dots \times \dots\dots = \dots\dots$
- Quante dita hanno 2 mani? $\dots\dots \times \dots\dots = \dots\dots$

3 Unisci i puntini partendo da 0 e contando per 5.

